

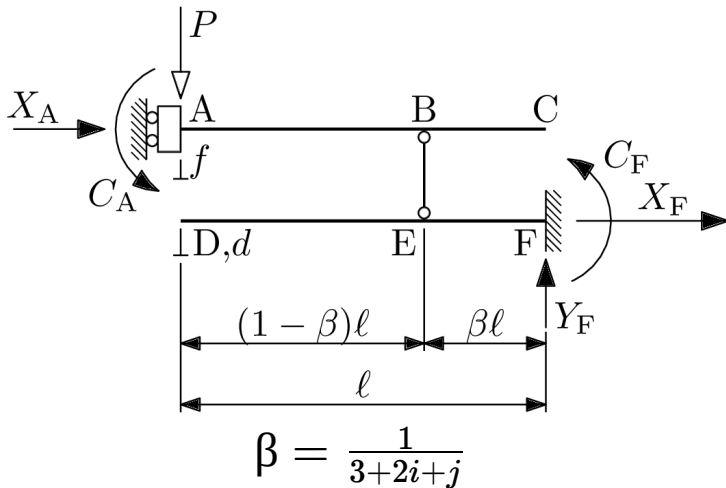
Si riportino nella seguente tabella i risultati normalizzati $\{r_{##}\}$ indicati nel seguito, con precisione di **quattro** cifre significative esatte.

Cognome	
Nome	
Matricola	
$\{r_{01}\}$	
$\{r_{02}\}$	
$\{r_{03}\}$	
...	
$\{r_{##}\}$	

I valori dei parametri binari i,j,k sono definiti sulla base delle ultime tre cifre del numero di matricola del candidato, in particolare:

- $i=0$ se il terzultimo numero è pari, $i=1$ se è dispari;
- $j=0$ se il penultimo numero è pari, $j=1$ se è dispari;
- $k=0$ se l'ultimo numero è pari, $k=1$ se è dispari.

Ad esempio, alla matricola 235786 sono associati $i=1$, $j=0$ e $k=0$.



Considerare la struttura in figura, composta da due travi di rigidezza flessionale EJ collegate da una bielletta verticale BE . La trave ABC è vincolata in A mediante un carrello a scorrimento verticale senza cerniera, ed è caricata in A da una forza verticale di entità P .

Calcolare le reazioni vincolari

$$X_A = P \cdot \{r01\}, \quad C_A = P \cdot \{r02\}, \quad X_F = P \cdot \{r03\}$$

$$Y_F = P \cdot \{r04\}, \quad C_F = P \cdot \{r05\}$$

e lo sforzo normale sulla bielletta BE ,

$$N_{BE} = P \cdot \{r06\}$$

positivo se trattivo.

Calcolare quindi il momento flettente ai punti A , B , C , D , E e F , positivo se a fibre tese inferiori

$$M_{fA} = P \cdot \{r07\}, \quad M_{fB} = P \cdot \{r08\}, \quad M_{fC} = P \cdot \{r09\},$$

$$M_{fD} = P \cdot \{r10\}, \quad M_{fE} = P \cdot \{r11\}, \quad M_{fF} = P \cdot \{r12\}$$

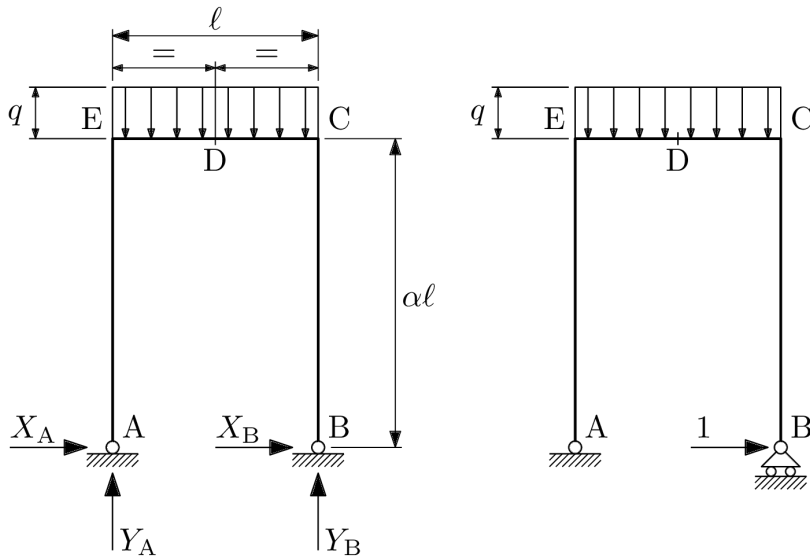
Utilizzare quindi il teorema di Castigliano per calcolare la freccia f al punto A .

$$f = \{r13\} \cdot (P \cdot l^3) / (EJ)$$

Utilizzare infine il corollario di Mohr per calcolare la freccia d al punto D

$$d = \{r14\} \cdot (P \cdot l^3) / (EJ);$$

si suggerisce in questo ultimo passaggio di considerare la sola trave DEF , caricata dalla forza a questa trasmessa in E .



(a)

(b)

$$\alpha = \frac{6+j}{4+k}$$

Considerare il portale staticamente indeterminato di figura (a), caricato sulla traversa da un carico distribuito uniforme di entità q . Al fine di risolvere il portale si faccia riferimento alla struttura principale di figura (b). In particolare:

- considerare la struttura principale di figura (b), soggetta al solo carico distribuito q ; riportare gli associati valori del momento flettente ai punti A,B,C,D,E,

$$M_{fA} = ql^2 \cdot \{r15\}, \quad M_{fB} = ql^2 \cdot \{r16\},$$

$$M_{fC} = ql^2 \cdot \{r17\}, \quad M_{fD} = ql^2 \cdot \{r18\},$$

$$M_{fE} = ql^2 \cdot \{r19\}$$

assunti positivi qualora siano portate in trazione le fibre interne al portale.

- considerare quindi la struttura principale di figura (b) soggetta ora al solo carico esplorativo unitario di figura, e riportare gli associati valori del momento flettente ai punti A,B,C,D,E

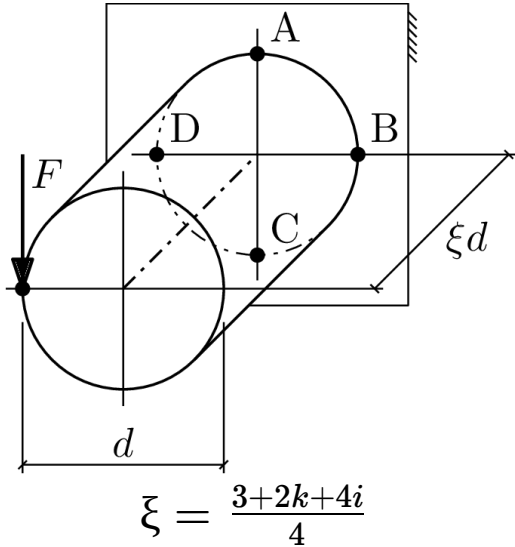
$$M_{fA1} = 1l \cdot \{r20\}, \quad M_{fB1} = 1l \cdot \{r21\}, \quad M_{fC1} = 1l \cdot \{r22\}, \quad M_{fD1} = 1l \cdot \{r23\}, \quad M_{fE1} = 1l \cdot \{r24\}$$

- utilizzare infine il PLV per risolvere la struttura stat. ind. di figura (a), e riportare i valori delle reazioni vincolari:

$$X_A = ql \cdot \{r25\}, \quad Y_A = ql \cdot \{r26\}, \quad X_B = ql \cdot \{r27\}, \quad Y_B = ql \cdot \{r28\},$$

e il valore massimo in modulo del momento flettente su tale struttura,

$$M_{fmax} = ql^2 \cdot \{r29\}$$



Calcolare le tensioni da momento flettente, momento torcente e taglio secondo Jourawsky ai punti A, B, C e D.

$$\begin{aligned} \sigma_{MfA} &= \{r30\} \cdot F/d^2, & \sigma_{MfB} &= \{r31\} \cdot F/d^2, \\ \sigma_{MfC} &= \{r32\} \cdot F/d^2, & \sigma_{MfD} &= \{r33\} \cdot F/d^2, \\ \tau_{MtA} &= \{r34\} \cdot F/d^2, & \tau_{MtB} &= \{r35\} \cdot F/d^2, \\ \tau_{MtC} &= \{r36\} \cdot F/d^2, & \tau_{MtD} &= \{r37\} \cdot F/d^2, \\ \tau_{TA} &= \{r38\} \cdot F/d^2, & \tau_{TB} &= \{r39\} \cdot F/d^2, \\ \tau_{TC} &= \{r40\} \cdot F/d^2, & \tau_{TD} &= \{r41\} \cdot F/d^2 \end{aligned}$$

Calcolare quindi per i punti B e D il diametro del circolo di Mohr.

$$\begin{aligned} d_{Mohr,B} &= \{r42\} \cdot F/d^2 \\ d_{Mohr,D} &= \{r43\} \cdot F/d^2 \end{aligned}$$